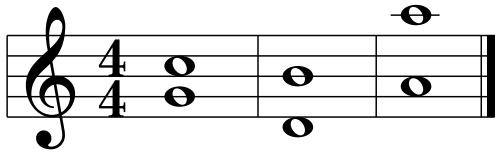


# Intervalle, Dreiklänge (Dur/ Moll)

Name: \_\_\_\_\_ Klasse: \_\_\_\_\_


Intervallgrobbestimmung, Dreiklänge, Akkordsymbol

**1a** Wie heißen folgende Intervalle? (Grobbestimmung)




\_\_\_\_\_

**1b** Notiere die entsprechenden Intervalle aufwärts:




Sept Quint Sext

**2** Wie heißen folgende Sekunden und Terzen? (Feinbestimmung mit den Abkürzungen k2, g2, k3, g3)



\_\_\_\_\_

**3** Notiere die entsprechenden Terzen aufwärts.



g3 k3 g3 g3 g3 k3 g3 k3

**4** „Spiele“ folgende Dreiklänge: Grundton=1, Terzton=3, Quintton=5

D

Gm

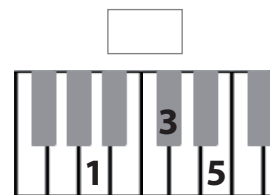
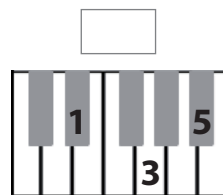
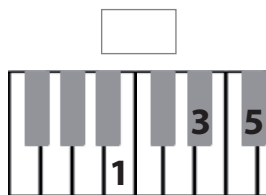
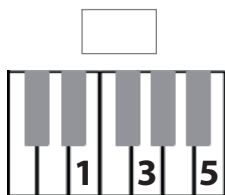
C#m

Bb



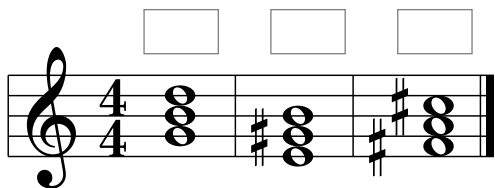
4

**5** Bezeichne die Dreiklänge mit dem richtigen Akkordsymbol.

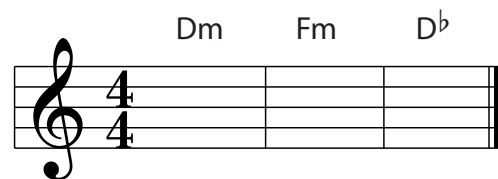


4

**6a** Wie heißt das richtige Akkordsymbol.



**6b** Notiere folgende Dreiklänge



6



36

check